


PHIẾU BÀI TẬP
MÔN TOÁN - LỚP 1 - TUẦN 11

Thực hành trải nghiệm - Kiểm tra - Phép cộng (T.1)

Họ và tên:

Lớp:STT.....

Bài 1: Nối phép tính thích hợp.




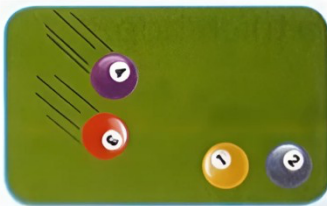
$2 + 1$

$2 + 2$




Bài 2: Số?

a.




$.... + =$

b.




$.... + =$

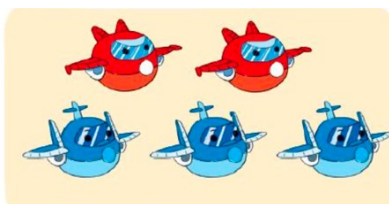
Bài 3: Số?



$2 + 1 =$



$2 + 2 =$



$2 + 3 =$




$3 + 1 =$




Bài 4: Viết phép tính thích hợp.



$$\square + \square = \square$$




$$\square + \square = \square$$



$$\square + \square = \square$$

Bài 5: Số?


a.



Có bông hoa trong lọ, thêm bông hoa vào lọ.

Vậy có tất cả bông hoa trong lọ.

b.



Có bạn đang chơi đá cầu, thêm bạn nữa. Vậy có tất cả bạn chơi đá cầu.