

PHIẾU BÀI TẬP


MÔN TOÁN - LỚP 1 - TUẦN 13


Cộng bằng cách đếm thêm


Họ và tên:

Lớp:STT.....

1. Viết vào ô trống (theo mẫu).

$1 + 2 = ?$  → Một, hai, ba → $1 + 2 = 3$

a. $2 + 3 = ?$  → Hai, ba, bốn năm → ... + ... = ...

b. $4 + 5 = ?$  → → ... + ... = ...

2. Nói.



$1 + 1$

$2 + 3$



3. Số ?



$4 + 2 = \dots\dots$



$5 + 3 = \dots\dots$



4. Tính nhẩm.

$3 + 1 = \dots$

$2 + 2 = \dots$

$2 + 3 = \dots$

$3 + 4 = \dots$

5. Tính (theo mẫu).

$5 + 2 + 1 = ?$




$4 + 3 + 1 = \dots\dots\dots$

$6 + 2 + 2 = \dots\dots\dots$


6. Số.

a)



$4 + 5 = \dots\dots$

b)



$7 + 3 = \dots\dots$

7. So sánh: > < =

$2 + 1 \square 4$

$1 + 1 \square 2$

$1 + 5 \square 6$

$4 + 1 \square 3$

8. Quan sát tranh rồi điền số thích hợp vào ô trống.



--	--	--	--	--	--	--	--

