

# PHIẾU BÀI TẬP

## MÔN TOÁN - LỚP 1 - TUẦN 14

### Phép trừ (2 tiết), Phép trừ trong phạm vi 10 (T.1)

Họ và tên: .....

Lớp: .....STT.....

#### 1. Nói.



$$4 - 1$$

$$5 - 1$$




#### 2. Viết phép tính thích hợp.



$$3 - 1 = 2$$

a)



$$\dots - \dots = \dots$$

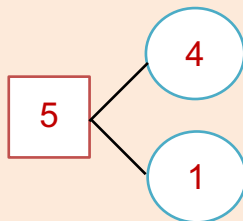
b)



$$\dots - \dots = \dots$$

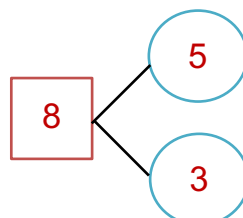
#### 3. Tính (theo mẫu).

$$5 - 1 = ?$$



$$5 - 1 = 4$$

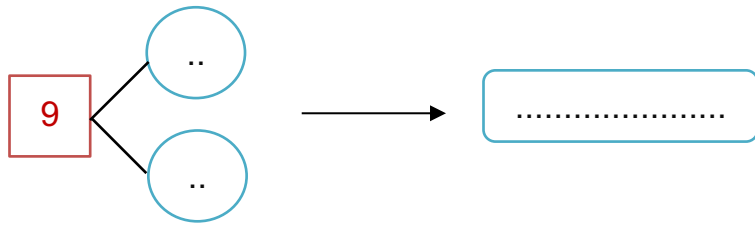
$$a) 8 - 5 = ?$$



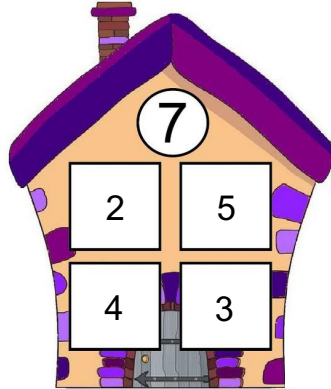
.....



b)  $9 - 7 = ?$



4. Số?



$$7 - 2 = 5$$

$$7 - 5 = 2$$

$$7 - \dots = \dots$$

$$7 - \dots = \dots$$

5. Tính nhẩm.

$2 - 1 = \dots$

$4 - 1 = \dots$

$4 - 2 = \dots$

$3 - 2 = \dots$

6. Nói.

$8 - 5$

$4 - 1$

$6 - 2$

$9 - 4$



7. So sánh:  $> < =$

$7 - 3 \square 3$

$4 \square 8 - 4$

$8 - 2 \square 9 - 1$

8. Quan sát tranh rồi viết một phép trừ thích hợp.

