

PHIẾU BÀI TẬP


MÔN TOÁN - LỚP 1 - TUẦN 17

Em làm được những gì? (T.2); Ôn tập HKI (2 tiết)


Họ và tên:.....

Lớp:.....STT:.....

1. Em hãy điền tiếp để hoàn thành dãy số sau:



2. Em hãy tô màu đỏ vào hình chữ nhật, màu xanh vào hình tròn và màu xanh dương vào hình tam giác:



3. Điền dấu >, <, = thích hợp vào ô vuông:

6 8

9 9 - 1

10 8 + 2

4 + 3 7

5 + 1 8

3 + 0 2

4. Em hãy sắp xếp đúng số chìa khóa theo thứ tự:



- Từ bé đến lớn:

- Từ lớn đến bé:



5. Đánh dấu x vào những vật có dạng khối hộp chữ nhật:













6. Số?



7. Quan sát tranh và viết phép tính thích hợp:



--	--	--	--	--

8. Tìm ra quy luật và điền số vào ô trống:

