

Tên:.....





Lớp:.....STT:.....

PHIẾU BÀI TẬP
MÔN TOÁN - LỚP 4 - TUẦN 8






Câu 1: Bốn con gà, vịt, chó, chim có khối lượng lần lượt là: 2500 g; 1kg 800g; 8 kg; 800g. Con vật có khối lượng nhẹ nhất là:

- A. Gà B. Vịt C. Chó D. Chim

Câu 2: Quan sát hình ảnh sau đó điền vào chỗ chấm để hoàn thành bảng số liệu sau:

Chuồng A	Chuồng B	Chuồng C	Chuồng D
			
..... quả quả quả quả
<p>Sắp xếp tên các chuồng theo thứ tự tăng dần về số lượng trứng:</p> <p>.....</p>			

Câu 3: Đọc biểu đồ tranh sau và trả lời câu hỏi:

Số sữa thu hoạch ở mỗi trại nuôi bò sữa	
Trại A	
Trại B	
Trại C	
Trại D	
Trại E	

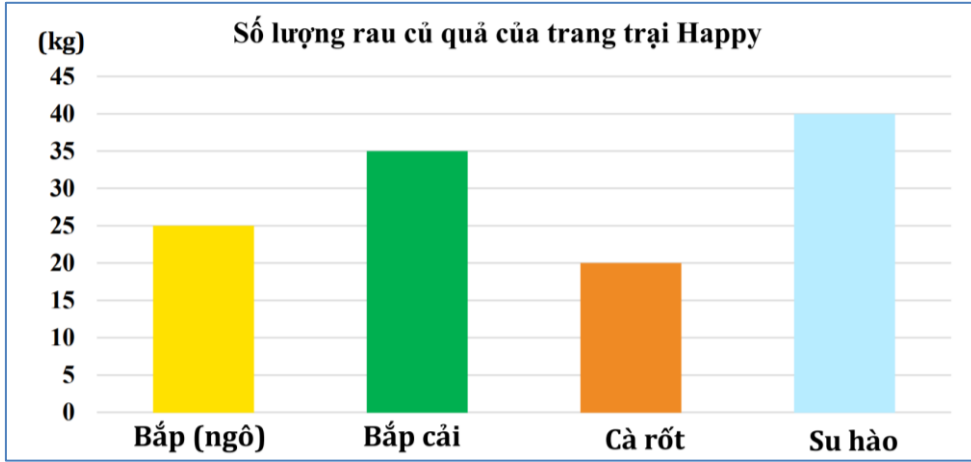
a) Trại thu hoạch được nhiều chai sữa nhất là:

b) Trại thu hoạch được ít chai sữa nhất là:

c) Trại thu hoạch được nhiều nhất nhiều hơn trại ít nhất chai sữa.



Câu 4: Khi thu hoạch rau củ quả, số lượng rau củ quả được thể hiện trong biểu đồ sau, quan sát biểu đồ và trả lời câu hỏi:



a) Tên biểu đồ là gì?

b) Mỗi cột của biểu đồ thể hiện điều gì?

c) Loại rau củ quả nào thu hoạch được nhiều nhất?

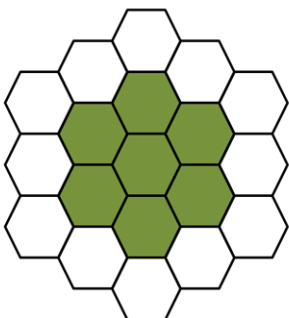
d) Loại rau củ quả nào thu hoạch được ít nhất?

Câu 5: Đường Quốc lộ 1A từ TP Lạng Sơn đến TP Hồ Chí Minh dài 1873 km. Quãng đường từ Lạng Sơn đến Huế dài 808 km. Tính quãng đường từ Huế đến TP Hồ Chí Minh.

Bài giải

Câu 6: Thử thách vui:

Hình dưới đây được tạo thành từ các hình lục giác đều có cạnh bằng 2 cm. Hỏi hình màu xanh có chu vi bằng bao nhiêu?



Bài giải