

PHIẾU BÀI TẬP

MÔN TOÁN - LỚP 4 – TUẦN 8







Họ và tên:.....

Lớp:.....

TRẮC NGHIỆM

Em hãy khoanh tròn vào chữ cái đứng trước câu trả lời đúng.

Câu 1. Nam gieo một xúc xắc nhiều lần, quan sát số chấm ở trên mặt của xúc xắc và ghi lại kết quả nhận được vào bảng dưới đây.

					
┌	▣	┐	□	▣	┌

Hỏi 5 chấm đã xuất hiện bao nhiêu lần?

A. 2 lần

B. 3 lần

C. 5 lần

D. 7 lần

Câu 2. Tính số trung bình cộng của các số: 20; 5; 10; 5.

A. 10

B. 15

C. 20

D. 40

Câu 3. Đổi đơn vị: $12 \text{ dm}^2 = \dots\dots\dots \text{ cm}^2$

A. 120

B. 1 200

C. 12 000

D. 120 000

Câu 4. Đổi đơn vị: $3 \text{ dm}^2 6 \text{ cm}^2 = \dots\dots\dots \text{ cm}^2$

A. 36

B. 360

C. 306

D. 316

I. TỰ LUẬN

Câu 1. Tìm số trung bình cộng của các số sau.

a. 5; 12; 19

.....
.....

b. 13; 17

.....
.....



c. 120; 65; 40; 24; 1

.....
.....

Câu 2. Điền số thích hợp vào chỗ chấm.

a. $300 \text{ cm}^2 = \dots\dots\dots \text{ dm}^2$	e. $1\ 000 \text{ dm}^2 - 200 \text{ dm}^2 = \dots\dots\dots \text{ dm}^2$
b. $102 \text{ dm}^2 = \dots\dots\dots \text{ cm}^2$	f. $23 \text{ dm}^2 - 13 \text{ cm}^2 = \dots\dots\dots \text{ cm}^2$
c. $2 \text{ dm}^2 4 \text{ cm}^2 = \dots\dots\dots \text{ cm}^2$	g. $350 \text{ dm}^2 : 5 = \dots\dots\dots \text{ dm}^2$
d. $10 \text{ dm}^2 30 \text{ cm}^2 = \dots\dots\dots \text{ cm}^2$	h. $117 \text{ dm}^2 \times 3 = \dots\dots\dots \text{ dm}^2$

Câu 3. Nhà bác Vân có 8 bao thóc tẻ cân nặng 400 kg và 4 bao thóc nếp cân nặng 224 kg. Hỏi trung bình mỗi bao thóc nhà bác Vân cân nặng bao nhiêu ki-lô-gam?

Bài giải:

.....
.....
.....
.....
.....

Câu 4. Quan sát tranh bên và thực hiện yêu cầu bên dưới.

Rô-bốt viết số bao nhiêu? Em hãy giải thích cách tìm số đó cho Nam biết.

Bài giải:

.....
.....
.....
.....



ĐÁP ÁN

I. TRẮC NGHIỆM

Câu 1. D

Câu 2. A

Câu 3. B

Câu 4. C

II. TỰ LUẬN

Câu 1.

a. $(5 + 12 + 19) : 3 = 12$

b. $(13 + 17) : 2 = 15$

c. $(120 + 65 + 40 + 24 + 1) : 5 = 50$

Câu 2.

a. $300 \text{ cm}^2 = 3 \text{ dm}^2$	e. $1\,000 \text{ dm}^2 - 200 \text{ dm}^2 = 800 \text{ dm}^2$
b. $102 \text{ dm}^2 = 10\,200 \text{ cm}^2$	f. $23 \text{ dm}^2 - 13 \text{ cm}^2 = 2\,287 \text{ cm}^2$
c. $2 \text{ dm}^2 4 \text{ cm}^2 = 204 \text{ cm}^2$	g. $350 \text{ dm}^2 : 5 = 70 \text{ dm}^2$
d. $10 \text{ dm}^2 30 \text{ cm}^2 = 1\,030 \text{ cm}^2$	h. $117 \text{ dm}^2 \times 3 = 351 \text{ dm}^2$

Câu 3.

Nhà bác Vân có số bao thóc là:

$$8 + 4 = 12 \text{ (bao thóc)}$$

Trung bình mỗi bao thóc nhà bác Vân nặng số ki-lô-gam là:

$$(400 + 224) : 12 = 52 \text{ (kg)}$$

Đáp số: 52 kg

Câu 4.

Số Rô-bốt viết là 12.

Giải thích: Vì trung bình cộng của số của Rô-bốt và Mai là 15 nên ta có:

$$15 \times 2 - 18 = 12$$

Vậy Rô-bốt đã viết số 12.

