

Họ và tên:

Lớp:

I. TRẮC NGHIỆM

Khoanh vào chữ cái đặt trước câu trả lời đúng hoặc làm theo yêu cầu:

Câu 1. Số liền trước của số 80 là:

- A. 81 B. 90 C. 79

Câu 2. Điền số thích hợp vào chỗ chấm: $55 = \dots + 5$.

- A. 5 B. 60 C. 50

Câu 3. Cho $48 < \dots < 52$. Số tròn chục thích hợp điền vào chỗ chấm là:

- A. 51 B. 50 C. 49

Câu 4. Số gồm 5 chục và 2 đơn vị là:

- A. 205 B. 52 C. 25

Câu 5. Số chẵn lớn nhất có hai chữ số khác nhau là:

- A. 98 B. 10 C. 90

Câu 6. Trong phép tính $33 + 55 = 88$. Số 88 được gọi là:

- A. số hạng B. số trừ C. tổng

Câu 7. Trong phép tính $13 = 11 + 2$. Số 11 được gọi là:

- A. số hạng B. số trừ C. tổng

Câu 8. Số?



Em ước lượng khoảng ngôi sao.

Em đếm được tất cả ... ngôi sao

II. TỰ LUẬN

Bài 1. Điền vào bảng sau:

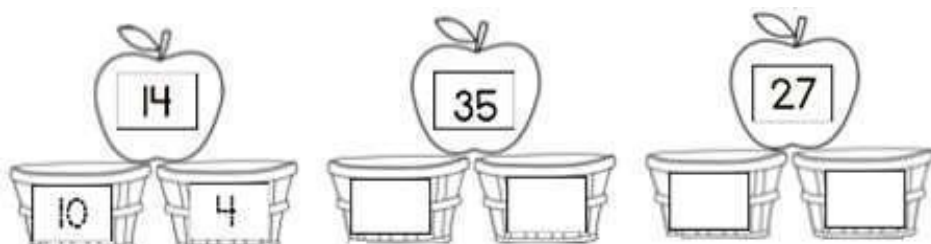


Số gồm	Đọc số	Viết số	Phân tích số
8 chục và 5 đơn vị	Tám mươi lăm	85	$85=80+5$
4 chục và 3 đơn vị
.....	Bảy mươi một
.....	55

Bài 2. Số?


Số hạng	16	9	21	12	9	3	34
Số hạng	33	10	26	17	20	4	43
Tổng							

Bài 3. Số?



Bài 4. Tìm trứng của gà mẹ bằng cách nối phép tính có tổng ứng với số ở gà mẹ:

50



$55 + 3$

$40 + 20$

$30 + 20$

$10 + 40$

$22 + 33$

ĐÁP ÁN

I. Trắc nghiệm

Câu 1: C

Câu 2: C

Câu 3: B

Câu 4: B

Câu 5: A

Câu 6: C

Câu 7: A

Câu 8:

Em ước lượng khoảng 30 ngôi sao.

Em đếm được tất cả 29 ngôi sao.

II. Tự luận

Bài 1:


Số gồm	Đọc số	Viết số	Phân tích số
8 chục và 5 đơn vị	Tám mươi lăm	85	$85 = 80 + 5$
4 chục và 3 đơn vị	Bốn mươi ba	43	$43 = 40 + 3$
7 chục và 1 đơn vị	Bảy mươi một	71	$71 = 70 + 1$
5 chục và 5 đơn vị	Năm mươi lăm	55	$50 = 50 + 5$

Bài 2:

Số hạng	16	9	21	12	9	30	34
Số hạng	33	10	26	17	20	40	44
Tổng	49	19	47	29	29	70	78



Bài 3:



Bài 4:

