

ĐỀ CƯƠNG ÔN TẬP KIỂM TRA CUỐI KÌ II KHỐI 3 – MÔN TIẾNG VIỆT (ĐỀ 1)

Năm học: 2025 – 2026

I. ĐỌC HIỂU

Đọc thầm bài văn sau:

CON BÚP BÊ BẰNG VẢI

Ngày sinh nhật Thủy, mẹ đưa Thủy ra phố đồ chơi. Mẹ bảo Thủy chọn một món đồ đồ chơi em thích nhất. Đi dọc gần hết phố đồ chơi, cô bé nhìn hoa cả mắt, vẫn không biết nên mua gì vì thứ nào em cũng thích. Đến cuối phố, thấy một bà cụ tóc bạc ngồi bán những con búp bê bằng vải giữa trời giá lạnh, Thủy kéo tay mẹ dừng lại. Bà cụ nhìn hai mẹ con Thủy, cười hiền hậu:

- Cháu mua búp bê cho bà đi!

Thủy nhìn bà, rồi chỉ vào con búp bê được khâu bằng mụn vải xanh, mặt độn bông, hai con mắt được chấm mực không đều nhau:

- Mẹ mua con búp bê này đi!

Trên đường về mẹ hỏi Thủy:

- Sao con lại mua con búp bê này?

Thủy cười:

- Vì con thương bà. Bà già bằng bà nội, mẹ nhỉ? Trời lạnh thế mà bà không được ở nhà, con mua búp bê cho bà vui.

(Sưu tầm)

Khoanh vào chữ cái trước ý trả lời đúng hoặc làm theo yêu cầu bài tập dưới đây.

Câu 1. Ngày sinh nhật Thủy, mẹ đưa Thủy ra phố đồ chơi để làm gì?

- A. Để Thủy được nhìn ngắm đồ chơi.
- B. Để Thủy được chọn mua đồ chơi nhiều tiền nhất.
- C. Để Thủy được chọn mua món đồ chơi em thích nhất.

Câu 2. Vì sao đi gần hết phố, Thủy vẫn chưa mua được quà gì?

- A. Vì Thủy hoa mắt, chóng mặt, không muốn chọn gì.
- B. Vì đồ chơi nhiều đến hoa mắt, thứ gì Thủy cũng thích.
- C. Vì nhiều đồ chơi nhưng đồ chơi nào cũng không đẹp.

ĐỀ CƯƠNG ÔN TẬP KIỂM TRA CUỐI KÌ II KHỐI 3 – MÔN TIẾNG VIỆT (ĐỀ 2)

Năm học: 2025 – 2026

I. ĐỌC HIỂU

Đọc thầm bài văn sau:

CHÚ DẾ SAU LÒ SƯỜI

Buổi tối ấy, nhà Mô-da thật yên tĩnh. Cậu bé thiu thiu ngủ trên ghế bành. Bỗng dung, hình như có một cái gì đó đã xảy ra? Có một âm thanh kéo dài lạ lùng làm sao. Mô-da nghĩ: “Chắc hẳn ánh trăng mảnh dễ bị giá lạnh, tan vỡ ra, đập vào cửa sổ...” Cậu bé đứng dậy tìm kiếm. Đây đúng là có một chú dế sau lò sưởi với “cây vĩ cầm” của mình. Dế kéo đàn hay đến nỗi cậu bé không nén nổi phải kêu lên:

- Chao ôi, hay quá! Ước gì tôi trở thành nhạc sĩ nhỉ?

Rồi chỉ ít lâu sau, chú bé chinh phục được cả công chúng thủ đô nước Áo. Bản nhạc kết thúc mà giây phút im lặng vẫn còn kéo dài. Phải chăng tiếng vọng của âm thanh đang lịm dần trong mỗi trái tim? Nhưng kìa, gian phòng bỗng sống lại: “Thật là tuyệt diệu! Thật là tuyệt diệu!”.

Sau này, nhạc sĩ Mô-da thường nhắc đến chú dế với tấm lòng biết ơn.

G.Xu-phe-rốp – Nam Cường dịch

Khoanh vào chữ cái trước ý trả lời đúng hoặc làm theo yêu cầu bài tập dưới đây.

Câu 1. Buổi tối ấy, trong căn nhà yên tĩnh, Mô-da được chứng kiến sự việc gì?

- A. Âm thanh của ánh trăng bị giá lạnh, tan vỡ ra, đập vào cửa sổ.
- B. Âm thanh kéo dài từ cây đàn vĩ cầm của nhà bên cạnh.
- C. Âm thanh kéo dài lạ lùng của chú dế kéo đàn sau lò sưởi.

Câu 2. Sau khi nghe được âm thanh hấp dẫn, Mô-da mong muốn điều gì?

- A. Trở thành người ca sĩ.
- B. Trở thành người nhạc sĩ.
- C. Trở thành người nhạc công.

Câu 3. Dấu hai chấm trong câu sau có tác dụng gì?

Những tỉnh thuộc khu vực Đông Nam Bộ gồm: Thành Phố Hồ Chí Minh, Đồng Nai, Bình Dương, Bình Phước và Tây Ninh.

- A. Dẫn lời nói trực tiếp.
- B. Báo hiệu phân giải thích, liệt kê.
- C. Báo hiệu kết thúc câu.

Câu 4. Chi tiết nào cho thấy tài năng chơi đàn tuyệt diệu của Mô – da trước công chúng thủ đô nước Áo?

- A. Bản nhạc kết thúc mà giây phút im lặng vẫn còn kéo dài.
- B. Sau này, nhạc sĩ Mô-da thường nhắc đến chú dế với tấm lòng biết ơn.
- C. Chú bé chinh phục được cả công chúng thủ đô nước Áo.

Câu 5. Tìm trong câu sau từ chỉ hoạt động:

Rồi chỉ ít lâu sau, chú bé chinh phục được cả công chúng thủ đô nước Áo.

- A. thủ đô
- B. công chúng
- C. chinh phục

Câu 6. Từ nào có nghĩa giống với từ “biết ơn”?

- A. vô ơn
- B. yêu mến
- C. mang ơn

Câu 7. Theo em, vì sao mọi người lại khen “Thật là tuyệt diệu! Thật là tuyệt diệu!”?

.....
.....

Câu 8. Em hãy đặt một câu cảm bộc lộ cảm xúc đối với Mô-da.

.....
.....

Câu 9. Em hãy nêu ước mơ của mình sau khi đọc câu chuyện “Chú dế bên lò sưởi”.

.....
.....

ĐỀ CƯƠNG ÔN TẬP KIỂM TRA CUỐI KÌ II

KHỐI 3 – MÔN TIẾNG VIỆT (ĐỀ 3)

Năm học: 2025 – 2026

I. ĐỌC HIỂU

Đọc thầm bài văn sau:

ANH EM NHÀ CHIM SẾ

Sẻ mẹ bảo hai anh em sẽ đi kiếm ngô về cho bữa tối. Vâng lời mẹ. Sẻ anh và Sẻ em bay về hướng những cánh đồng ngô. Hai anh em đang bay thì gặp chị Bò Câu gọi: “Sẻ anh ơi, ra bờ ao với chị không? Họa Mi đang biểu diễn ca nhạc đấy!”. Nghe hấp dẫn quá, Sẻ anh liền bay theo chị Bò Câu. Sẻ em một mình bay về hướng cánh đồng ngô, được một đoạn gặp bác Quạ. “Sẻ em ơi, ra bìa rừng với bác không? Đang có tiệc trà vui lắm!” - Bác Quạ nói. Sẻ em liền háo hức bay theo bác Quạ.

Sẻ anh mãi mê nghe hát, khi nhớ đến lời mẹ dặn thì trời đã tối rồi. Bữa tiệc trà vui quá, khiến Sẻ em cũng quên mất việc mẹ giao. Tối muộn, Sẻ em mới cuống cuống bay về.

Về đến nhà, hai anh em thú nhận mọi chuyện với mẹ. Sẻ mẹ nhẹ nhàng bảo: “Không sao, hai con biết nhận lỗi là tốt. Nhưng giá như hai con nhớ lời mẹ dặn thì tối nay nhà mình đã có ngô để ăn rồi”.

(Sưu tầm)

Khoanh tròn vào chữ cái trước ý trả lời đúng:

Câu 1. Sẻ mẹ giao cho hai anh Sẻ nhiệm vụ gì?

- A. Đi kiếm thóc về cho bữa tối.
- B. Đi kiếm ngô về cho bữa tối.
- C. Đi kiếm hạt dẻ về cho bữa tối.

Câu 2. Khi đang bay, Sẻ anh và Sẻ em đã gặp những ai?

- A. Sẻ anh gặp bác Quạ, cô Họa Mi, Sẻ em gặp chị Bò Câu.
- B. Sẻ anh gặp bác Quạ, Sẻ em gặp chị Bò Câu.
- C. Sẻ anh gặp chị Bò Câu, Sẻ em gặp bác Quạ.

Câu 3. Vì sao Sẻ anh và Sẻ em không đi kiếm thức ăn theo lời mẹ dặn?

- A. Vì Sẻ anh và Sẻ em mãi đi nhạc và thưởng thức tiệc trà ở bờ ao.
- B. Vì Sẻ anh mãi đi nghe nhạc ở bờ ao, Sẻ em mãi đi thưởng thức tiệc trà.
- C. Vì Sẻ anh mãi đi thưởng thức tiệc trà, Sẻ em mãi đi nghe nhạc ở bờ ao.

Câu 4. Kết cục của việc Sẻ anh và Sẻ em mãi chơi như thế nào?

- A. Hai anh em thú nhận với mẹ và bị mẹ la mắng.
- B. Hai anh em bị mẹ phạt bay đi hái ngô.
- C. Cả nhà Sẻ không có ngô ăn cho bữa tối.

Câu 5. Dấu ngoặc kép trong câu *Hai anh em đang bay thì gặp chị Bò* Câu gọi: “*Sẻ anh ơi, ra bờ ao với chị không? Họa Mi đang biểu diễn ca nhạc đấy!*” được dùng để làm gì?

- A. Đánh dấu lời nói trực tiếp của nhân vật.
- B. Đánh dấu phần trích dẫn nguyên văn.
- C. Báo hiệu phần giải thích, liệt kê.

Câu 6. Trong câu “Sẻ em liền háo hức bay theo bác Quạ.”, từ “háo hức” là:

- A. Từ chỉ hoạt động.
- B. Từ chỉ đặc điểm.
- C. Từ chỉ sự vật.

Câu 7. Qua câu chuyện, em rút ra được bài học gì trong cuộc sống?

.....
.....

Câu 8. Em hãy đặt một câu khiến nhắc nhở bạn hoàn thành bài tập đúng hạn.

.....
.....

Câu 9. Trong cuộc sống hằng ngày, em đã bao giờ mãi chơi mà quên nhiệm vụ được giao chưa? Em đã làm gì sau đó?

.....
.....

ĐỀ CƯƠNG ÔN TẬP KIỂM TRA CUỐI KÌ II

KHỐI 3 – MÔN TIẾNG VIỆT (ĐỀ 4)

Năm học: 2025 – 2026

I. ĐỌC HIỂU

Đọc thầm bài văn sau:

ONG THỢ

Trời hé sáng, tổ ong mật nằm trong gốc cây bỗng hóa rộn rịp. Ong thường thức dậy sớm, suốt ngày làm việc không chút nghỉ ngơi. Ong Thợ vừa thức đã vội vàng bước ra khỏi tổ, cất cánh tung bay. Ở các vườn chung quanh, hoa đã biến thành quả. Ong Thợ phải bay xa tìm những bông hoa vừa nở. Con đường trước mắt Ong Thợ mở rộng thênh thang. Ông mặt trời nhô lên cười. Hôm nào Ong Thợ cũng thấy ông mặt trời cười. Cái cười của ông hôm nay càng rạng rỡ. Ong Thợ càng lao thẳng về phía trước.

Chợt từ xa một bóng đen xuất hiện. Đó là thằng Quạ Đen. Nó lướt về phía Ong Thợ, xoẹt sát bên Ong Thợ toan đớp nuốt. Nhưng ong Thợ đã kịp lách mình. Thằng Quạ Đen đuổi theo nhưng không tài nào đuổi kịp. Đường bay của Ong Thợ trở lại thênh thang.

Theo Võ Quảng

Khoanh tròn vào chữ cái trước ý trả lời đúng:

Câu 1. Tổ ong mật nằm ở đâu?

- A. Trên nóc nhà. B. Trên cành cây. C. Trong gốc cây.

Câu 2. Vừa thức giấc Ong Thợ đã làm gì?

- A. Đi vào đồng ruộng tưới nước cho hoa màu.
B. Bay đi tìm những bông hoa vừa nở.
C. Bay quanh tổ.

Câu 3. Vì sao Ong Thợ phải bay đi xa để tìm những bông hoa mới nở?

- A. Vì quanh tổ không có hoa.
B. Vì ở các vườn chung quanh hoa đã biến thành quả.
C. Vì hoa ở xa sẽ cho mật ngon hơn.

Câu 4. Quạ Đen đuổi theo Ong Thợ để làm gì?

- A. Để bắt Ong Thợ ăn thịt.
- B. Để rủ Ong Thợ đi săn cùng.
- C. Để giúp Ong Thợ kiếm mật hoa.

Câu 5. Câu: “Ong Thợ bay xa tìm những bông hoa mới vừa nở” thuộc mẫu câu nào?

- A. Ai làm gì?
- B. Ai là gì?
- C. Ai thế nào?

Câu 6. Câu nào dưới đây thuộc kiểu câu khiến?

- A. Ong Thợ đang bay.
- B. Ong Thợ bay rất nhanh!
- C. Hãy học tập sự chăm chỉ của Ong Thợ!

Câu 7. Theo em, Ong Thợ là một chú ong như thế nào?

.....
.....

Câu 8. Viết một câu cảm thể hiện cảm xúc của em về hình ảnh ong thợ.

.....
.....

Câu 9. Nêu một việc làm cụ thể của em thể hiện sự chăm chỉ trong học tập hoặc cuộc sống.

.....
.....

ĐỀ CƯƠNG ÔN TẬP KIỂM TRA CUỐI KÌ II
KHỐI 3 – MÔN TOÁN (ĐỀ 1)

Năm học: 2025 – 2026

I. PHẦN TRẮC NGHIỆM

Khoanh vào chữ cái (A, B, C) đặt trước câu trả lời đúng:

Câu 1:

a. Hiệu của 75 046 và 32 638 là:

A. 43 408

B. 42 418

C. 42 408

b. Kết quả của phép chia 25 684 : 4 là:

A. 5 421

B. 6 421

C. 6 321

c. Phường A có 23 285 người, phường B có 12 967 người. Hỏi phường A nhiều hơn phường B bao nhiêu người?

A. 11 318 người

B. 10 318 người

C. 10 328 người

d. Điền dấu thích hợp vào chỗ chấm: 83 126 83 162

A. <

B. >

C. =

Câu 2: Điền số thích hợp vào chỗ chấm: 8kg 50g = g

A. 8 050

B. 8 500

C. 850


Câu 3:

a. Hình bên có bao nhiêu góc vuông:

A. 2

B. 3

C. 4

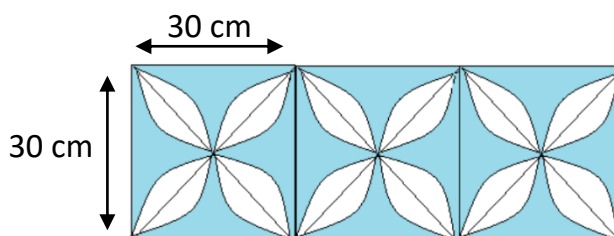


b. Một viên gạch hoa hình vuông có cạnh 30 cm. Tính chu vi hình chữ nhật ghép bởi 4 viên gạch như thế.

A. 60 cm

B. 120 cm

C. 240 cm



Câu 8: Viết số thích hợp vào chỗ chấm

Một khu vườn hình chữ nhật có nửa chu vi là 133cm, chiều dài khu vườn là 125cm. Vậy diện tích khu vườn đó là

Câu 9: Một nông trường có 2 520 cây chanh, số cây cam gấp 3 lần số cây chanh. Hỏi nông trường đó có tất cả bao nhiêu cây chanh và cây cam?

Bài giải

.....

.....

.....

.....

.....

Câu 10: Mẹ mua một hộp sữa hết 9 700 đồng và một gói kẹo hết 2 300 đồng. Mẹ đưa cô bán hàng 20 000 đồng. Hỏi cô bán hàng phải trả lại bao nhiêu tiền?

Bài giải

.....

.....

.....

.....

.....

ĐỀ CƯƠNG ÔN TẬP KIỂM TRA CUỐI KÌ II
KHỐI 3 – MÔN TOÁN (ĐỀ 2)

Năm học: 2025 – 2026

I. PHẦN TRẮC NGHIỆM

Khoanh vào chữ cái (A, B, C) đặt trước câu trả lời đúng:

Câu 1:

a. Số liền trước của số 90 000 là:

- A. 90 001 B. 89 999 C. 91 000

b. Kết quả của phép nhân $12\ 061 \times 8$ là:

- A. 96 488 B. 86 488 C. 96 478

c. Tìm chữ số thích hợp trong chỗ chấm bên: $42\ 371 > 42\ 37\dots$

- A. 0 B. 1 C. 2

d. Làm tròn số 55 712 đến hàng chục nghìn:

- A. 55 000 B. 56 000 C. 60 000

Câu 2: Điền số thích hợp vào chỗ chấm: $3\text{kg } 7\text{g} = \dots\dots\dots \text{g}$

- B. 3 070 B. 3 700 C. 3 007

Câu 3:

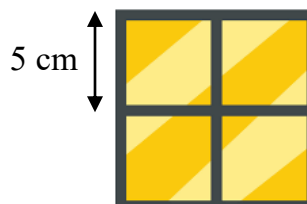
a. Cho hình vẽ sau, cho biết góc vuông tại đỉnh nào?

- A. Góc vuông tại đỉnh A
B. Góc vuông tại đỉnh B
C. Góc vuông tại đỉnh C

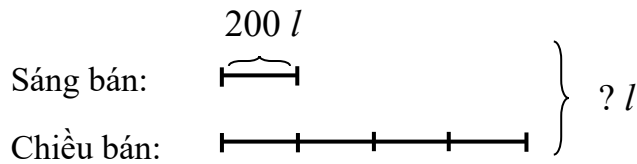


b. Một ô cửa sổ hình vuông có cạnh 5 cm. Tính chu vi hình vuông ghép bởi 4 ô cửa như thế.

- A. 10 cm
B. 20 cm
C. 40 cm



Câu 8: Viết số thích hợp vào chỗ chấm



Cả hai buổi bán được

Câu 9: Trong ba tháng đầu năm, một nhà máy sản xuất đồ chơi đã sản xuất được 24 500 xe ô tô. Tháng 1 nhà máy bán đi 10 600 xe ô tô, tháng 2 nhà máy bán đi 9 500 xe ô tô. Hỏi nhà máy còn lại bao nhiêu xe ô tô đồ chơi?

Bài giải

.....

.....

.....

.....

.....

Câu 10: Nam có 9 000 đồng và đã dùng toàn bộ số tiền này để mua ba cái bút chì giống nhau. Nếu Việt cũng mua một cái bút chì giống Nam, thì Việt phải trả bao nhiêu tiền?

Bài giải

.....

.....

.....

.....

.....

ĐỀ CƯƠNG ÔN TẬP KIỂM TRA CUỐI KÌ II
KHỐI 3 – MÔN TOÁN (ĐỀ 3)

Năm học: 2025 – 2026

I. PHẦN TRẮC NGHIỆM

Khoanh vào chữ cái (A, B, C) đặt trước câu trả lời đúng:

Câu 1:


a. Điền số thích hợp điền vào chỗ chấm: + 3 256 = 7 894

A. 4 648

B. 4 638

C. 11 150

b. Số thích hợp điền vào dấu ? là số:



A. 10 263

B. 10 264

C. 10 265

c. Điền dấu thích hợp: 28 960 20 000 + 8 000 + 900 + 6

A. >

B. <

C. =

d. Quả bóng có số bé nhất là:



A.



B.



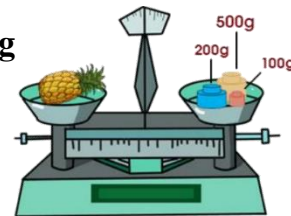
C.

Câu 2: Quan sát hình bên và cho biết quả thơm cân nặng bao nhiêu gam?

A. 500 gam

B. 700 gam

C. 800 gam



Câu 3:

a) Kim giờ và kim phút của đồng hồ tạo thành một góc vuông khi đồng hồ chỉ mấy giờ?

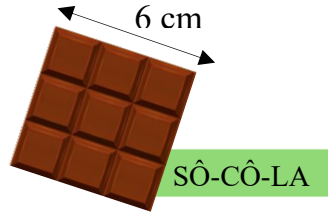
A. 3 giờ

B. 6 giờ

C. 12 giờ

b) Thợ làm bánh dùng miếng sô-cô-la như hình bên để làm bánh. Chu vi của miếng sô-cô-la là:

- A. 24 cm
- B. 12 cm
- C. 24 m



Câu 4: Một chai dầu ăn có 1 l dầu. Sau khi dùng 350 ml để chiên cá, số dầu còn lại trong chai là:

- A. 1 350 ml
- B. 650 ml
- C. 750 ml

Câu 5:

a) Quan sát bảng thống kê số học sinh khối Ba đăng ký câu lạc bộ hè.

Câu lạc bộ	Bơi lội	Bóng đá	Đàn	Aerobics
Số lượng học sinh đăng ký	26	24	15	35

Tổng số học sinh khối Ba đăng ký câu lạc bộ hè là:

b) Quan sát hình sau và cho biết:

dừng lại, đi tiếp, rẽ trái

Người điều khiển ô tô chắc chắn sẽ phải
..... khi đèn giao thông chuyển sang màu đỏ.



Câu 6: Xem tờ lịch tháng 4 và cho biết:

Mai học Toán Tư duy vào thứ Ba hằng tuần. Hỏi trong tháng 4, bạn học vào những ngày nào?

.....
.....

Tháng 4 NĂM 2023						
Thứ Hai	Thứ Ba	Thứ Tư	Thứ Năm	Thứ Sáu	Thứ Bảy	Chủ nhật
					1	2
3	4	5	6	7	8	9
10	11	12	13	14	15	16
17	18	19	20	21	22	23
24	25	26	27	28	29	30

Câu 7: Đặt tính rồi tính

$$21\ 526 \times 3$$

$$30\ 705 : 5$$

.....
.....
.....

.....
.....
.....
.....
.....

Câu 8: Trong học kỳ Một, trường em đã phát thưởng cho học sinh xuất sắc hết 2 340 quyền vở. Học kỳ Hai phát thưởng ít hơn học kỳ Một 512 quyền vở. Hỏi cả năm học trường em đã phát thưởng tất cả bao nhiêu quyển vở?

Bài giải

.....

.....

.....

.....

.....

Câu 9: Khung cửa sổ nhà An có dạng hình chữ nhật. Biết chiều dài 14 dm, chiều rộng ngắn hơn chiều dài 6 dm. Tính diện tích khung cửa sổ đó.

Bài giải

.....


.....

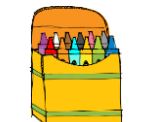
.....

.....

.....

Câu 10: Nếu có 50 000 đồng thì chắc chắn em sẽ mua được những đồ vật nào dưới đây mà không nhận lại tiền thối. Hãy đánh dấu (X) để chọn những món đồ đó.


40 000 đồng


15 000 đồng


49 000 đồng


35 000 đồng

ĐỀ CƯƠNG ÔN TẬP KIỂM TRA CUỐI KÌ II

KHỐI 3 – MÔN TOÁN (ĐỀ 4)

Năm học: 2025 – 2026

I. PHẦN TRẮC NGHIỆM

Khoanh vào chữ cái (A, B, C) đặt trước câu trả lời đúng:

Câu 1:

a. Chọn số thích hợp: $57\ 3\dots 8 > 57\ 377$

A. 6

B. 7

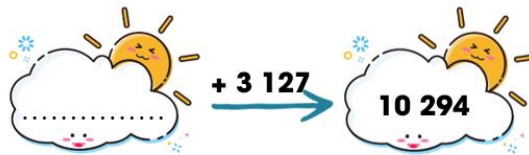
C. 8

b. Điền số thích hợp vào chỗ chấm

A. 6 167

B. 7 167

C. 13 421



c. Điền dấu thích hợp: $35\ 710$ $35\ 700$

A. >

B. <

C. =

d. Giá trị của biểu thức $21\ 576 - 2\ 343 + 1\ 000$ là:

A. 18 233

B. 19 233

C. 20 233

Câu 2: Cân nặng của 3 bạn Dũng, Hoàng, Mai lần lượt là: 12 kg, 15 kg, 14 kg. Bạn nào có số cân nhẹ nhất?

A. Dũng

B. Hoàng

C. Mai

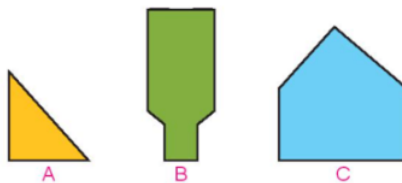
Câu 3:

a) Trong các hình vẽ sau, hình vẽ nào có duy nhất 1 góc vuông?

A. Hình A

B. Hình B

C. Hình C

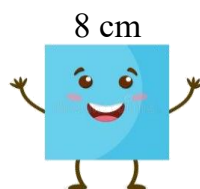


b) Quan sát hình bên và cho biết hình vuông bên có diện tích là:

A. 16 cm^2

B. 64 cm^2

C. 32 cm^2



Câu 4: Quãng đường từ Thành phố Hồ Chí Minh đến Đà Lạt dài km.



A. 157 km

B. 55 km

C. 369 km

Câu 5:

a. Mi chơi quay số may mắn và trúng được số điểm như sau:

Lượt chơi	Lượt 1	Lượt 2	Lượt 3
Số điểm	2 360	1 343	297


Tổng số điểm Mi quay được trong ba lượt là:

b. Quan sát hình sau và cho biết:

có thể, không thể, chắc chắn

Bạn Tin bóc thăm trúng thưởng, bạn Tin

nhận được phần thưởng là cái nón.



Câu 6: Xem tờ lịch tháng 6 và cho biết:

Công việc chuẩn bị cho buổi triển lãm tranh bắt đầu từ ngày 8 tháng 6 đến hết ngày 17 tháng 6. Vậy việc chuẩn bị cho buổi triển lãm cần: ngày.



Câu 7: Đặt tính rồi tính

$$15\ 104 \times 6$$

$$13\ 872 : 7$$

.....
.....
.....

.....
.....
.....
.....
.....

Câu 8: Tháng Hai khu di tích đón 42 300 khách tham quan. Do ảnh hưởng của bão lũ, tháng Ba khách tham quan đã giảm đi 3 lần so với tháng Hai. Hỏi trong cả hai tháng có tất cả bao nhiêu khách đến tham quan khu di tích?

Bài giải

.....

.....

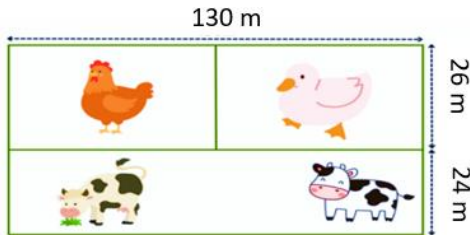
.....

.....

.....

Câu 9: Khu đất nuôi gia súc hình chữ nhật chia làm 3 phần như hình bên. Tính chu vi khu đất đó.

Bài giải



.....

.....

.....

.....

.....

Câu 10: Mẹ mua trứng hết 20 000 đồng và đưa cho cô bán trứng tờ 100 000 đồng.

Cô bán trứng trả lại mẹ 4 tờ tiền. Khả năng có thể xảy ra là:

- Cô bán trứng trả lại mẹ tờ 5 000 đồng, tờ 20 000 đồng, tờ 50 000 đồng.
- Cô bán trứng trả lại mẹ tờ 20 000 đồng.
- Cô bán trứng trả lại mẹ tờ 10 000 đồng và tờ 50 000 đồng.