

Họ và tên: ..... Lớp: .....

**PHIẾU BÀI TẬP**



**MÔN TOÁN - LỚP 3 – TUẦN 16 (08/12 – 12/12/2025)**

**Bài 1. Đặt thêm kim phút để đồng hồ chỉ:**

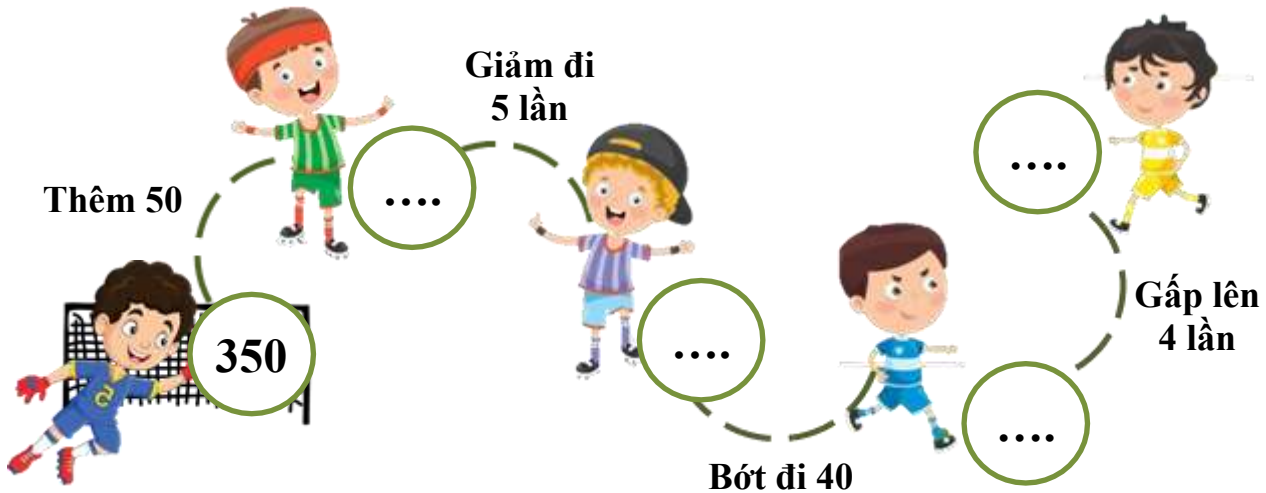
a) 8 giờ 7 phút

b) 12 giờ 34 phút

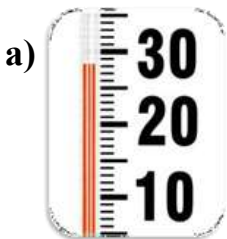
c) 4 giờ kém 13 phút



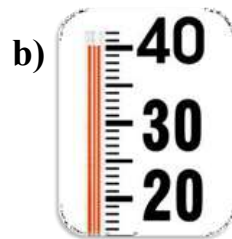
**Bài 2. Em hãy điền số thích hợp vào chỗ trống:**



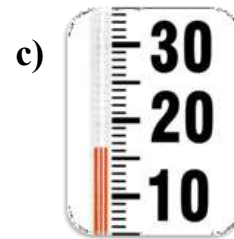
**Bài 3. Điền số thích hợp vào chỗ chấm:**



.....°C



.....°C



.....°C



**Bài 4. Đặt tính rồi tính:**

a)  $36 \times 2$

b)  $116 \times 5$

c)  $78 : 3$

d)  $760 : 7$



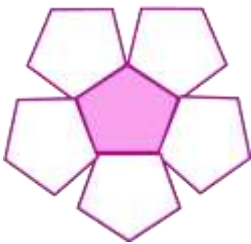
.....  
.....  
.....  
.....  
.....  
.....  
.....

.....  
.....  
.....  
.....  
.....  
.....  
.....

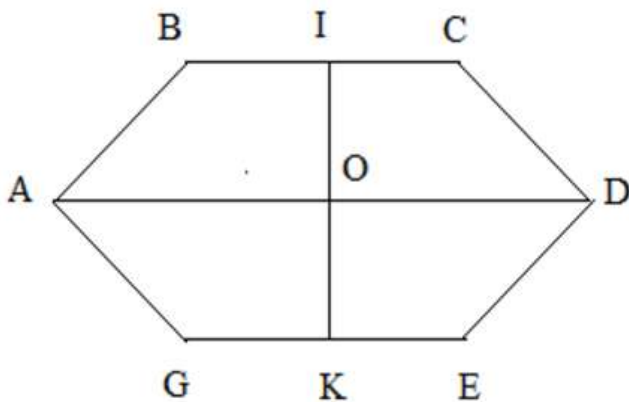
.....  
.....  
.....  
.....  
.....  
.....  
.....

.....  
.....  
.....  
.....  
.....  
.....  
.....

**Bài 5. Đã tô màu vào một phần mấy mỗi hình?**



**Bài 6. Quan sát hình vẽ và kể tên trung điểm của các đoạn thẳng sau:**



- Trung điểm của đoạn thẳng BC là:.....
- Trung điểm của đoạn thẳng AD là:.....
- Trung điểm của đoạn thẳng GE là:.....
- Trung điểm của đoạn thẳng IK là:.....

