


Họ và tên: ..... Lớp: .....


**PHIẾU BÀI TẬP**


**MÔN TOÁN LỚP 3 – TUẦN 7 (06/10 – 10/10/2025)**


**Câu 1: Điền số thích hợp vào ô trống**

  $\times 3 \rightarrow$

  $\times 5 \rightarrow$

  $\times 7 \rightarrow$

  $\times 9 \rightarrow$

  $\times 2 \rightarrow$

  $\times 6 \rightarrow$

**Câu 2: Tính**

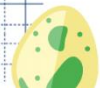
$\begin{array}{r} 541 \\ - 227 \\ \hline \end{array}$	$\begin{array}{r} 428 \\ + 129 \\ \hline \end{array}$	$\begin{array}{r} 564 \\ - 235 \\ \hline \end{array}$	$\begin{array}{r} 703 \\ + 268 \\ \hline \end{array}$
---	---	---	---

**Câu 3: Tính giá trị của biểu thức**



a)  $60 + 20 : 2$

b)  $5 \times (890 - 881)$



**Câu 4: a/ Điền số thích hợp vào chỗ chấm**

km	m	dm	cm	mm
1 km	1 m	1 dm	1 cm	1 mm
= ..... m	= ..... dm	= ..... cm	= ..... mm	
	= ..... cm	= ..... mm		
	= ..... mm			



