

Họ và tên:.....

Lớp:.....

PHIẾU BÀI TẬP

MÔN TOÁN – LỚP 3 – TUẦN 03 (08/09 – 12/09/2025)

Bài 1: Điền số thích hợp vào chỗ chấm

$..... : 8 = 2$

$35 : = 5$

$..... : 6 = 2$

$..... : 6 = 5$

$18 : = 2$

$15 : = 5$

Bài 2: Số?

Các tấm lưới đánh cá xếp thành hàng.

Số tấm lưới có tất cả	8	14	10	25
Số tấm lưới mỗi hàng	2	2	5
Số hàng	4	7	9	5

Bài 3: Tính nhẩm

$6 + 7 =$

$30 + 27 =$

$600 - 200 + 300 =$

$14 - 5 =$

$55 - 20 =$

$330 + 50 - 80 =$

$17 - 9 =$

$48 - 40 =$



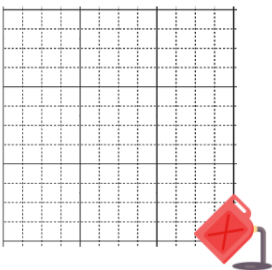
$270 - 30 - 240 =$

Bài 4: Đặt tính rồi tính

$235 + 182$

$614 - 320$

$47 + 305$



Bài 5: Số?

$1 \text{ cm} = \text{ mm}$

$50 \text{ mm} = \text{ cm}$

$3 \text{ cm} = \text{ mm}$

$70 \text{ mm} = \text{ cm}$

$8 \text{ cm} = \text{ mm}$

$60 \text{ mm} = \text{ cm}$



Bài 6: Nối phép tính ở cột A với kết quả ở cột B sao cho phù hợp

Cột A

$46 + 32$
$730 - 212$
$507 - 86$
$239 + 106$

Cột B

518
345
78
421

Bài 7: Điền dấu >, <, = thích hợp vào chỗ chấm

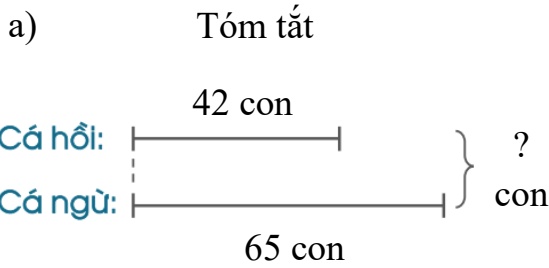
$4 \times 5 \dots 5 \times 4$

$1 \times 2 \dots 1 \times 5$

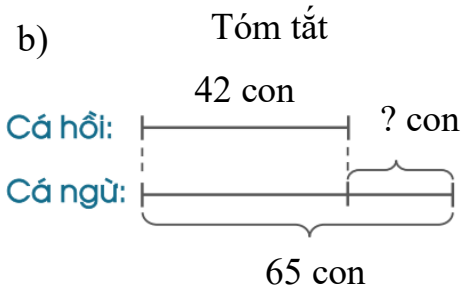
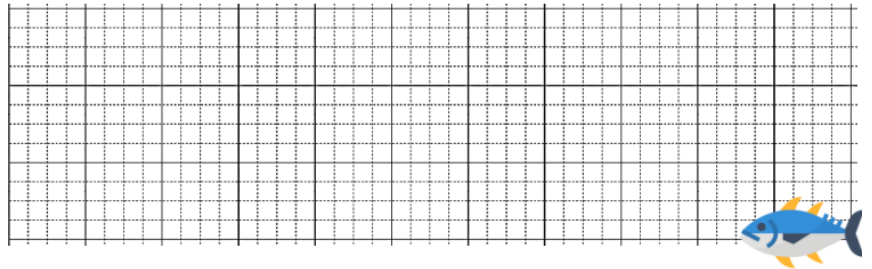
$5 \times 3 \dots 5 \times 7$

$10 : 2 \dots 10 : 5$

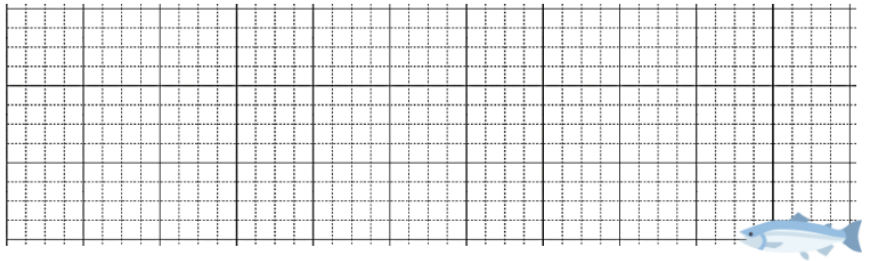
Bài 8: Giải các bài toán theo tóm tắt sau:



Bài giải



Bài giải



Bài 9: Nối phép tính ở cột A với kết quả ở cột B sao cho phù hợp

Cột A

$2 \text{ mm} + 7 \text{ mm}$
$13 \text{ mm} + 5 \text{ mm}$
$6 \text{ mm} + 4 \text{ mm}$
$18 \text{ mm} + 12 \text{ mm}$

Cột B

9 mm
1 cm
3 cm
18 mm

