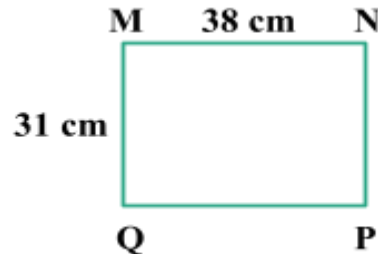
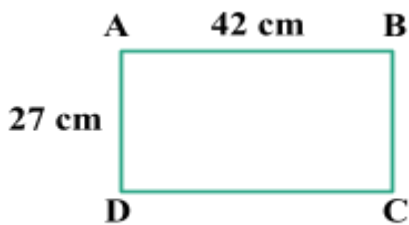


Họ và tên:..... Lớp:.....

**PHIẾU BÀI TẬP**

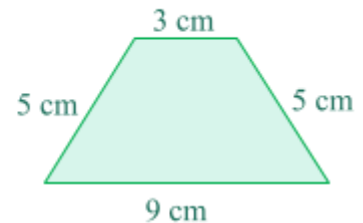

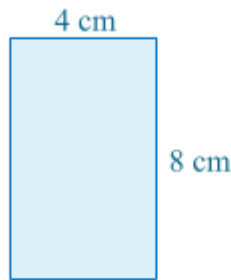
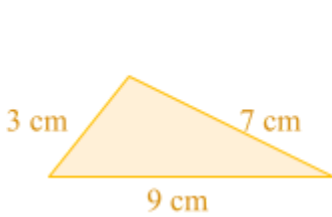
**MÔN TOÁN - LỚP 3 – TUẦN 25 (25/02 - 27/02/2026)**

**Bài 1. Khoanh vào cánh cửa đặt trước câu trả lời đúng.**



- A** Chu vi hình chữ nhật ABCD *lớn hơn* chu vi hình chữ nhật MNPQ.
- B** Chu vi hình chữ nhật ABCD *bé hơn* chu vi hình chữ nhật MNPQ.
- C** Chu vi hình chữ nhật ABCD *bằng* chu vi hình chữ nhật MNPQ.

**Bài 2. Nối mỗi hình với chu vi phù hợp.**



Chu vi  
24 cm

Chu vi  
19 cm

Chu vi  
22 cm

Chu vi  
16 cm

**Bài 3. Số?**

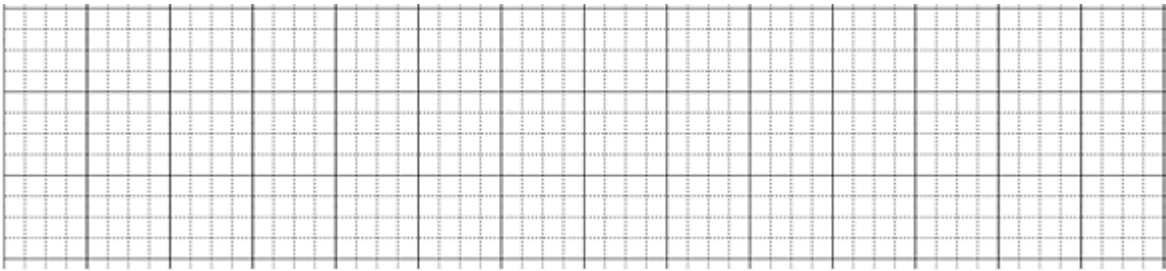
Chiều dài hình chữ nhật	12 m	20 cm	216 cm	.....
Chiều rộng hình chữ nhật	8 m	.....	1 m	30 dm
Chu vi hình chữ nhật	.....	64 cm	.....	.....
Nửa chu vi hình chữ nhật	.....	.....	.....	112 dm



<b>Cạnh hình vuông</b>	8 cm	.....	.....	102 mm	32 cm
<b>Chu vi hình vuông</b>	.....	120 m	72 dm	.....	.....


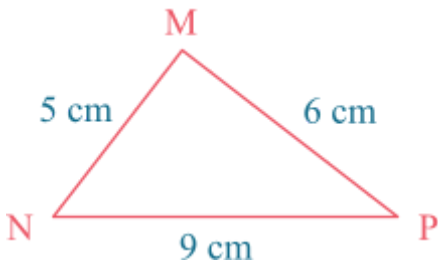
**Bài 4. Một mảnh đất hình chữ nhật có chiều dài 116 m, chiều rộng 78 m. Tính chu vi mảnh đất đó.**

**Bài giải**



**Bài 5. Cho hình tam giác MNP có kích thước như hình vẽ. Tính chu vi hình tam giác MNP.**

**Bài giải**



**Bài 6. Mỗi viên gạch lát nền hình vuông có cạnh 20 cm. Tính chu vi hình chữ nhật ghép bởi ba viên gạch như thế.**



**Bài giải**

