

Họ và tên: Lớp.....

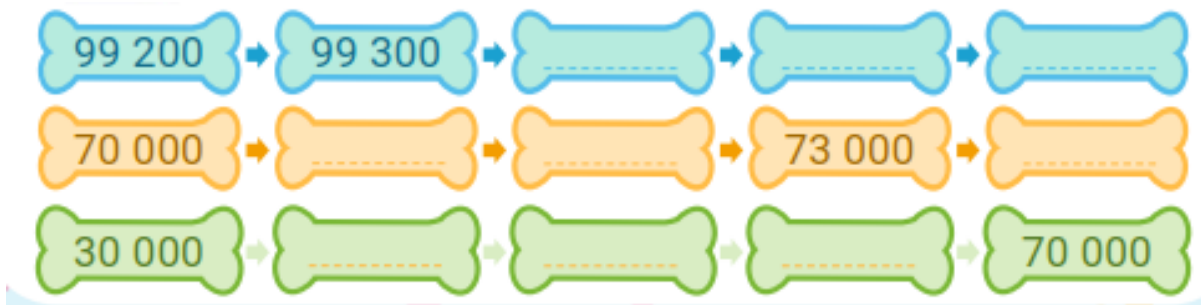
PHIẾU BÀI TẬP

MÔN TOÁN - LỚP 3 – TUẦN 28 (16/03 - 20/03/2026)

Câu 1: Viết (theo mẫu)

Đọc số	Viết số	Hàng				
		Chục nghìn	Nghìn	Trăm	Chục	Đơn vị
Bốn mươi lăm nghìn ba trăm tám mươi	45 380	4	5	3	8	0
Sáu mươi nghìn hai trăm ba mươi lăm						
.....	23 799					
.....	30 009					
.....		9	6	3	0	2

Câu 2: Số ?



Câu 3: Thực hiện theo yêu cầu

a. Viết số thành tổng

72 563 =

98 300 =

40 082 =



b. Viết tổng thành số

$30\ 000 + 2\ 000 + 400 + 70 + 8 = \dots\dots\dots$

$50\ 000 + 4\ 000 + 60 + 4 = \dots\dots\dots$

$60\ 000 + 6 = \dots\dots\dots$

Câu 4: Điền dấu < , > , = thích hợp vào chỗ chấm

a. $93\ 000 \dots\dots 93\ 001$

b. $30\ 000 + 4 \dots\dots 30\ 400$

$77\ 620 \dots\dots 76\ 920$

$90\ 000 + 600 \dots\dots 90\ 600$


$55\ 790 \dots\dots 55\ 789$

$40\ 030 \dots\dots 40\ 000 + 30$

$8\ 641 \dots\dots 10\ 000$

$90\ 000 + 9999 \dots\dots 100\ 000$

Câu 5: Điền các số 56 500; 51 625; 54 970; 53 311 thích hợp vào dấu chấm




Câu 6: Thực hiện theo yêu cầu


a. Thay chữ số thích hợp vào chỗ chấm


$55 \dots 20 < 55\ 120$


$36\ 184 = 36 \dots 84$

$99\ 998 < 99\ 99 \dots$

b. Đúng ghi Đ, sai ghi S vào 

 Thùng màu đỏ chứa 8 540 g gạo. Thùng màu xanh chứa 9 kg 460 g gạo.
Thùng màu đỏ chứa ít hơn thùng màu xanh.

 Đường từ nhà đến trường dài 2 km 700 m, đường từ nhà đến chợ dài 1 625 m.
Đường từ nhà đến trường bằng đường từ nhà đến chợ.

 Bể thứ nhất chứa 3 250 l nước. Bể thứ hai chứa 3 l 250 ml nước. Hai bể chứa bằng nhau.

Câu 7: Làm tròn đến số hàng chục nghìn

- Làm tròn số 34 680 đến hàng chục nghìn thì được số

- Làm tròn số 66 050 đến hàng chục nghìn thì được số

- Làm tròn số 45 323 đến hàng chục nghìn thì được số

- Làm tròn số 28 523 đến hàng chục nghìn thì được số

