

Họ và tên: Lớp:

PHIẾU BÀI TẬP

MÔN TOÁN LỚP 3 – TUẦN 8 (13/10 – 17/10/2025)

Bài 1. Tính nhẩm:

$4 \times 4 = \dots\dots$

$24 : 4 = \dots\dots$

$4 \times 7 = \dots\dots$

$12 : 4 = \dots\dots$

$4 \times 9 = \dots\dots$

$20 : 4 = \dots\dots$

$8 \times 4 = \dots\dots$

$40 : 4 = \dots\dots$

Bài 2. Đúng ghi Đ, sai ghi S.

a) $4 \times 5 + 88 = 100$ b) $176 - 24 : 4 = 170$ c) $4 \times 10 + 2 = 42$

Bài 3. Phép tính nào có kết quả lớn nhất (khoanh tròn vào đáp án đúng):

A. $600 : 2$

B. $800 : 4$

C. 200×3

Bài 4. Số?

a) $\times 4 = 400$

b) $250 :$ $= 50$

c) $3 \times$ $= 90$

Bài 5. Số?




Bài 6.

a) Khoanh tròn vào $\frac{1}{4}$ số ngôi sao trong hình.



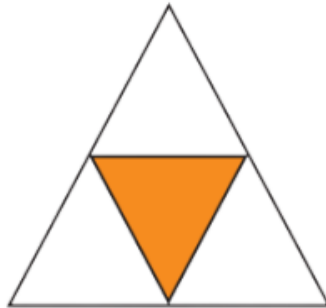
b) Khoanh tròn vào $\frac{1}{5}$ số tên lửa trong hình.



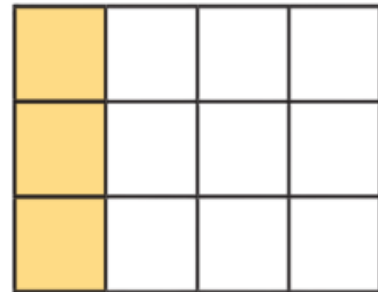
Bài 7. Đã tô màu vào một phần mấy mỗi hình?



.....



.....



.....

Bài 8. Tính nhẩm:

160 : 4 =

20 x 5 =

120 : 2 =

30 x 4 =

240 : 3 =

30 x 3 =

