

Họ tên:.....

Lớp:

PHIẾU BÀI TẬP

MÔN: TOÁN – LỚP 3 – TUẦN 23 (Từ 26/01 đến 30/01/2026)

Bài 1. Khoanh tròn vào chữ cái đặt trước câu trả lời đúng:

a) $?. \times 7 = 4\ 900$

A. 700

B. 343

C. 7 000

b) $?. : 4 = 1\ 200$

A. 808

B. 8 000

C. 4 800

c) $6 \times ?. = 5\ 400$

A. 900

B. 9 000

C. 324

Bài 2. Nối các biểu thức có giá trị bằng nhau:

$1\ 790 \times 2$

$2 \times 8\ 000$

$8\ 000 \times 2$

$6\ 000 \times 1$

$6\ 000 : 1$

$1\ 790 + 1\ 790$

Bài 3. Đặt tính rồi tính:

a) $1\ 234 \times 2$

b) $1\ 602 \times 6$

c) $4\ 135 : 5$

d) $6\ 483 : 9$

.....

.....

.....

.....

.....

.....

.....

.....

.....

.....

.....

.....

.....

.....

.....

.....

Bài 4. Số?

a)

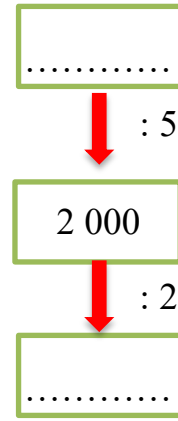
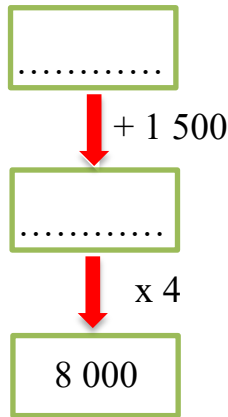
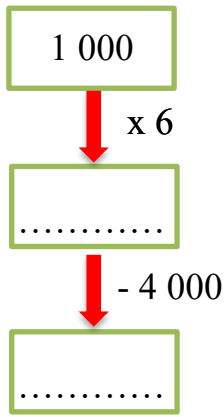
| | | | | |
|-------------------|-------|-------|-------|-----|
| Số bị chia | 3 240 | | 9 616 | |
| Số chia | 4 | 4 | 8 | 8 |
| Thương | 810 | 1 321 | | 206 |

b)

| | | | | |
|----------------------|-------|-------|-------|-------|
| Số đã cho | 2 435 | 1 260 | | 4 081 |
| Gấp lên 2 lần | 4 870 | | 7 402 | |



Bài 5. Số



Bài 6. Đúng hay sai?

a)

$$\begin{array}{r|l} 2\ 572 & 8 \\ 17 & 321 \\ 12 & \\ 4 & \end{array}$$

b)

$$\begin{array}{r|l} 1\ 508 & 3 \\ 00 & 302 \\ 08 & \\ 2 & \end{array}$$

c)

$$\begin{array}{r|l} 2\ 819 & 7 \\ 019 & 42 \\ 5 & \end{array}$$

d)

$$\begin{array}{r|l} 1\ 865 & 6 \\ 06 & 310 \\ 05 & \\ 5 & \end{array}$$

Bài 7. Giải các bài toán sau:

a) Một chiếc tàu chở hàng nặng 1 260 kg. Hỏi 3 chiếc tàu chở hàng nặng bao nhiêu ki-lô-gam?

Bài giải

.....

b) Một thuyền đánh bắt cá thu hoạch được 2 860 kg cá. Các ngư dân dùng 4 thùng để chuyển số cá trên thuyền vào bờ. Biết mỗi thùng chứa được 605 kg cá. Hỏi trên thuyền còn lại bao nhiêu ki-lô-gam cá?

Bài giải

.....

