

Họ và tên:

Lớp:

PHIẾU BÀI TẬP

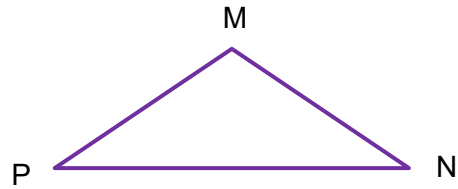
MÔN TOÁN - LỚP 3 – TUẦN 04 (15/09 – 19/09/2025)

Bài 1: Điền tên gọi thích hợp vào chỗ trống:

Hình tam giác MPN có:

3 đỉnh:

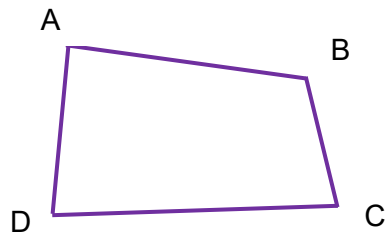
3 cạnh:



Hình tứ giác ABCD có:

4 đỉnh:

4 cạnh:



Bài 2:

a) Quan sát viên kẹo và kể tên các hình khối?



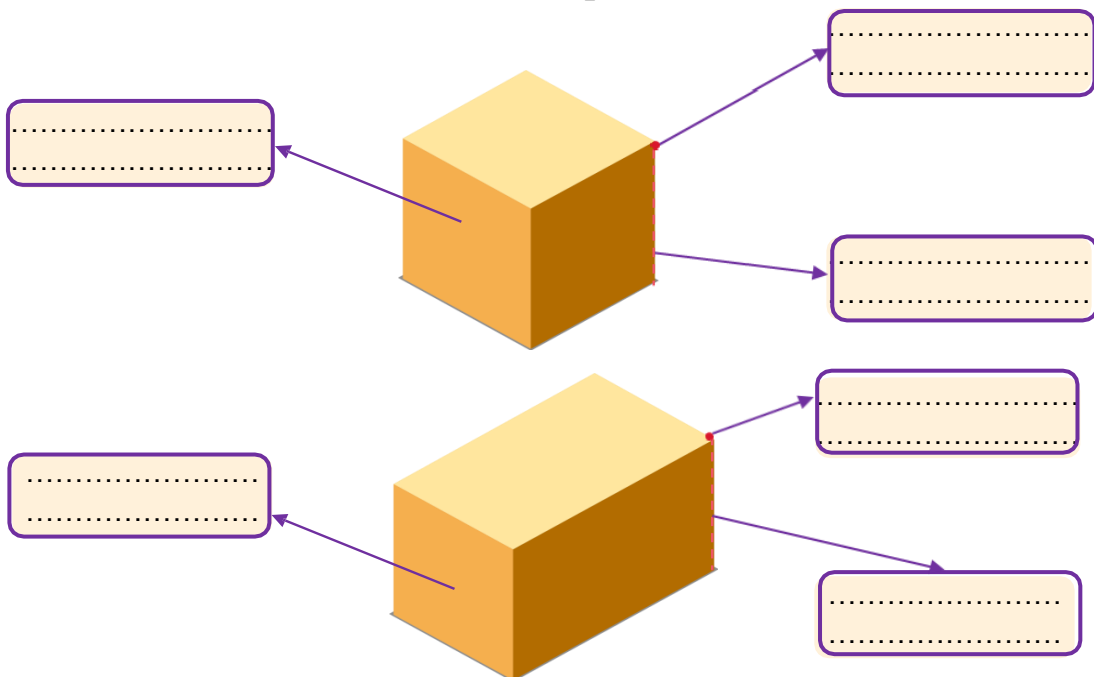
.....
.....

.....
.....


.....
.....

.....
.....

b) Xác định đỉnh, cạnh, mặt của các hộp bánh sau:



c) Quan sát tháp sô-cô-la, điền số thích hợp vào chỗ trống:



Tháp sô-cô-la đã bị thiếu
.....thanh sô-cô-la

Bài 3: Nối đồng hồ phù hợp với cách đọc



5 giờ 30 phút



6 giờ kém 15 phút



8 giờ kém 5 phút



15 giờ 20 phút



17 giờ kém 15 phút

Bài 4: Quan sát thời gian di chuyển của Mai từ nhà đến trường và điền số thích hợp vào chỗ trống:



- a) Mai ra khỏi nhà vào lúcgiờ.....phút và tới trường vào lúc.....giờ.....phút
b) Mai đã di chuyển từ nhà đến trường.....phút

